

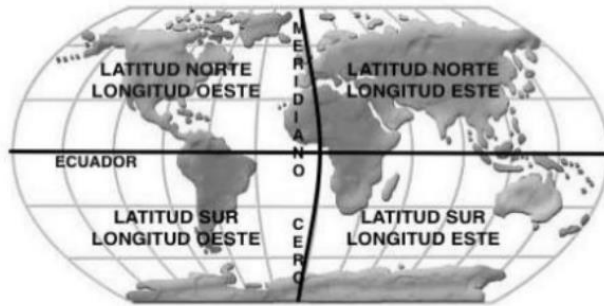
Nombre: \_\_\_\_\_

Objetivo : Ubicar lugares en un mapa, utilizando coordenadas geográficas como referencia (paralelos y meridianos ).OA 6

**Para recordar.**

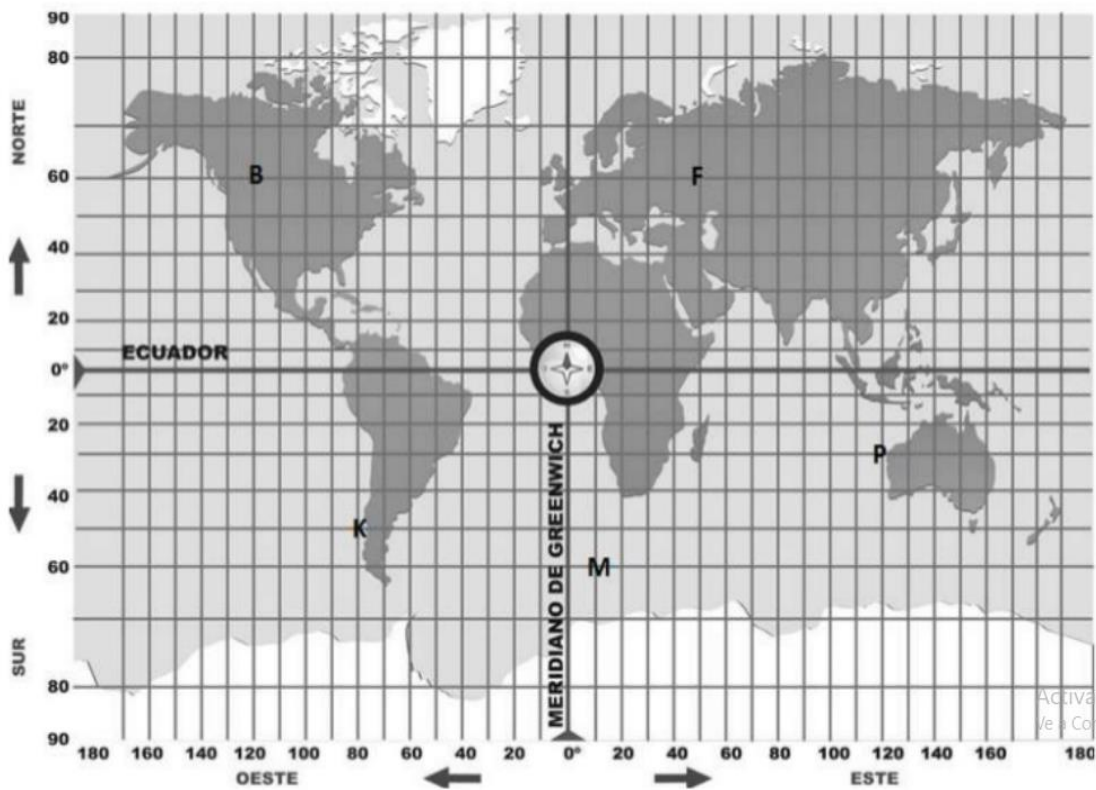
**COORDENADAS GEOGRÁFICAS**

¿Cuál es el meridiano más importante? R:
¿Cuál es el paralelo más importante? R:



1

Ahora observa atentamente el mapa cuadrículado y luego responde.



Responde según la ubicación de cada punto indicado con una letra.

<b>K.</b>	Latitud 50° sur. Longitud 80° oeste
<b>B.</b>	Latitud __° ____. Longitud __° ____
<b>M.</b>	_____ 60° _____. Longitud __° este.
<b>F.</b>	Latitud __° norte. _____ 50° oeste.
<b>P.</b>	_____ ° _____. _____ ° ____.

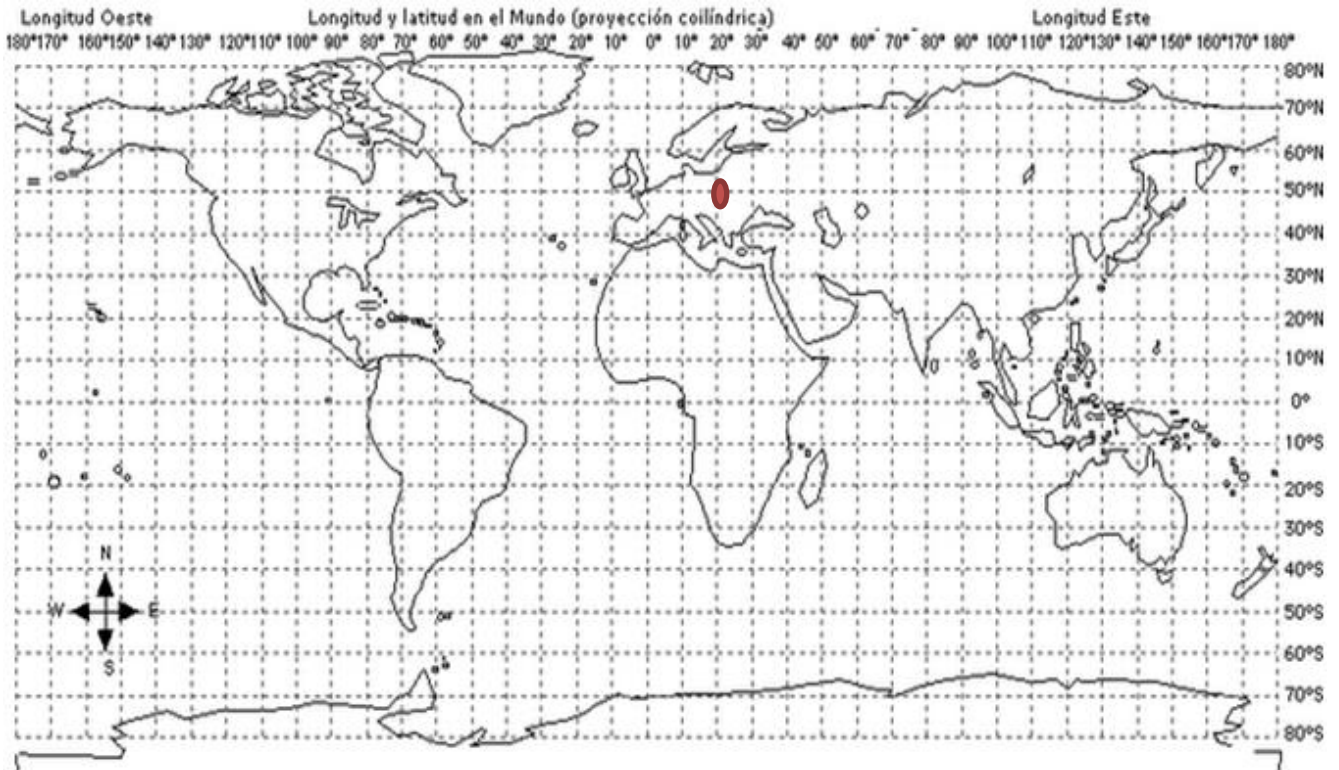
# LATITUD Y LONGITUD

2.- Repasa en color rojo el ECUADOR

3.- Repasa en color azul el MERIDIANO DE GREENWICH

4.- Ahora busca las siguientes coordenadas e indica que continente está en ese lugar:

- latitud  $50^{\circ}\text{N}$  longitud  $20^{\circ}\text{E}$ :.....Europa.....
- latitud  $20^{\circ}\text{S}$  longitud  $20^{\circ}\text{E}$ :.....
- latitud  $30^{\circ}\text{S}$  longitud  $130^{\circ}\text{E}$ :.....
- latitud  $20^{\circ}\text{S}$  longitud  $60^{\circ}\text{O}$ :.....
- latitud  $40^{\circ}\text{N}$  longitud  $100^{\circ}\text{O}$ :.....



5

Dibuje en el mapa un punto rojo junto con el número que le corresponda, con las siguientes localizaciones matemáticas.

Punto	Latitud	Longitud
1	40° latitud norte	10° longitud oeste
2	10° latitud norte	100° longitud este
3	40° latitud sur	40° longitud este
4	20° latitud sur	10° longitud oeste
5	60° latitud norte	30° longitud este
6	80° latitud norte	120° longitud oeste
7	50° latitud sur	10° longitud oeste

